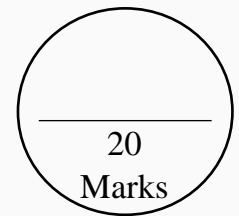




## DCEB – VIZIANAGARAM

### Self-Evaluation and Learning for Future (SELF)



### DAILY TEST - 7 SOCIAL STUDIES – 10<sup>th</sup> Class Topics: Lesson- 10,11,12, 21, 22

#### I. Answer the following questions.

4 x 1 = 4 M

- Consider the following statements.
  - Arab Spring is the political impact of globalisation.
  - Arab Spring is a book.Which of the above statement is correct.
  - (i) Only
  - (ii) only
  - Both (i) and (ii)
  - None of the these
- Arrange the following cities based on its location from East to West.  
Thiruvananthapuram, Chennai, Imphal, Hyderabad
- Based on the relationship between the information in the first pair, complete the second pair.  
Rural Areas : 2400 kilocalories :: Urban Areas : ?
- When was Right to Information act passed?

#### II. Answer the following questions.

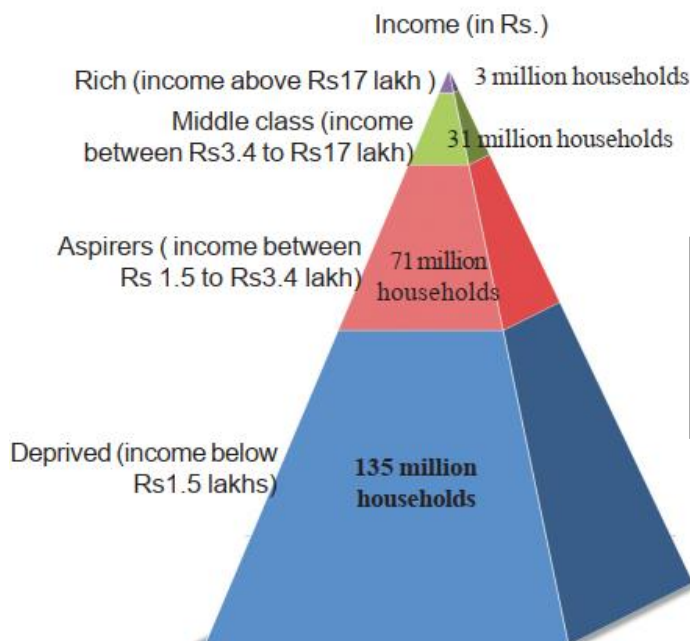
2 x 2 = 4 M

- What is information?
- Write the factors influenced on globalisation?

#### III. Answer the following question.

1 x 4 = 4 M

- Read the following pyramid graph and comment on it.



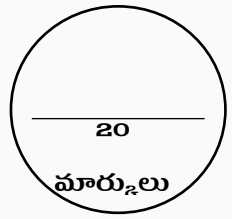
**Graph-1 : Distribution of households in India based on annual income (2010 survey)**

#### IV. Answer the following question.

1 x 8 = 8 M

- What are the basic features of social movements?





I. క్రింది ప్రశ్నలకు సమాధానాలు వ్రాయండి.

4 x 1 = 4 మా.

1. క్రింది ప్రకటనలను పరిశీలించండి.

i. అరబ్ వసంతం అనేది ప్రపంచీకరణ యొక్క రాజకీయ ప్రభావం.

ii. అరబ్ వసంతం అనేది ఒక పుస్తకం.

పై ప్రకటనల్లో ఏది సరైనది.

A. i మాత్రమే B. ii మాత్రమే C. i మరియు ii D. పైవేవీ కావు.

2. ఈ క్రింది నగరాలను వాటి స్థానం ఆధారంగా తూర్పు నుండి పడమరకు అమర్చండి.

తిరువనంతపురం, చెన్నై, ఇంఫాల్, హైదరాబాద్

3. మొదటి జతలోని సమాచారం మధ్య సంబంధం ఆధారంగా, రెండవ జతని పూర్తి చేయండి.

గ్రామీణ ప్రాంతాలు : 2400 కిలో కేలరీలు :: పట్టణ ప్రాంతాలు : ?

4. సమాచార హక్కు చట్టం ఎప్పుడు ఆమోదించబడింది?

II. క్రింది ప్రశ్నలకు సమాధానాలు వ్రాయండి.

2 x 2 = 4 మా.

5. సమాచారం అంటే ఏమిటి?

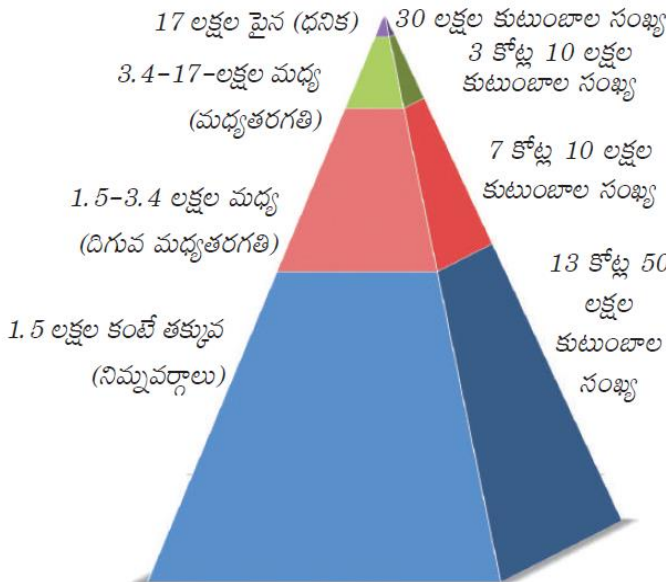
6. ప్రపంచీకరణపై ప్రభావం చూపిన అంశాలను వ్రాయండి?

III. క్రింది ప్రశ్నకు సమాధానం వ్రాయండి.

1 x 4 = 4 మా.

7. కింది పిరమిడ్ గ్రాఫ్ని చదివి దానిపై వ్యాఖ్యానించండి.

ఆదాయం (రూపాయలలో)



గ్రాఫ్ 1 : భారతదేశంలో వార్షిక ఆదాయం ఆధారంగా కుటుంబాల పంపిణీ (లక్షలలో) (2010 నవ్వే)

IV. క్రింది ప్రశ్నకు సమాధానం వ్రాయండి.

1 x 8 = 8 మా.

8. సామాజిక ఉద్యమాల మౌళిక అంశాలు ఏమిటి?

